

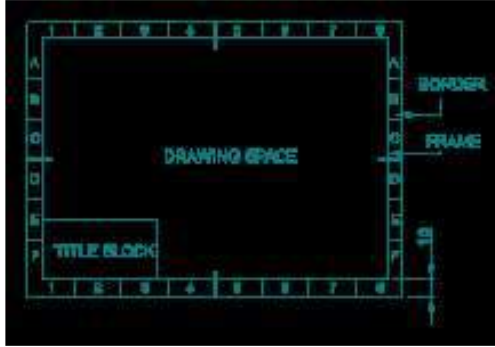
Engineering Drawing

ITI 1st Year All Trade

SUPER-6 Series

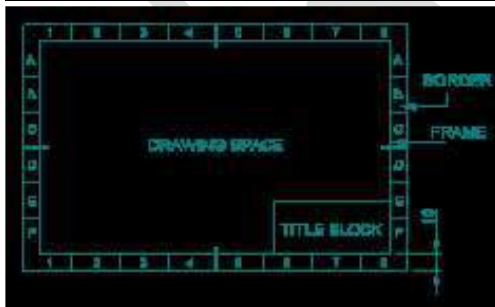
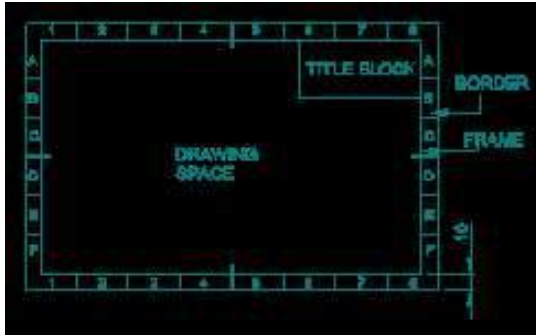
1. Which title block position is correct as standard practice?

एक मानक अभ्यास के रूप में कौन सी शीर्षक ब्लॉक स्थिति सही है?



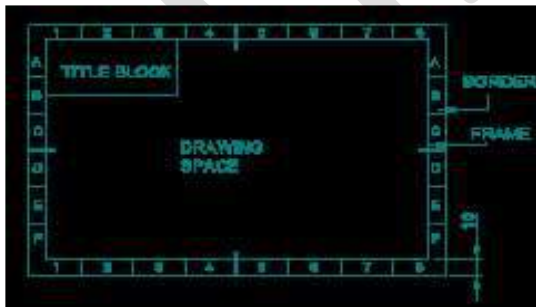
A.

B.



C.

D.



Answer- C

2. Which dimension correctly marked in the circle as per standard?

मानक के अनुसार सर्कल में कौन सा आयाम सही ढंग से चिह्नित है?



A.



B.



C.



D.

Answer-C

3. Which arrow head is correct as per standard?
मानक के अनुसार कौन सा तीर शीर्ष सही है?



A.

B.



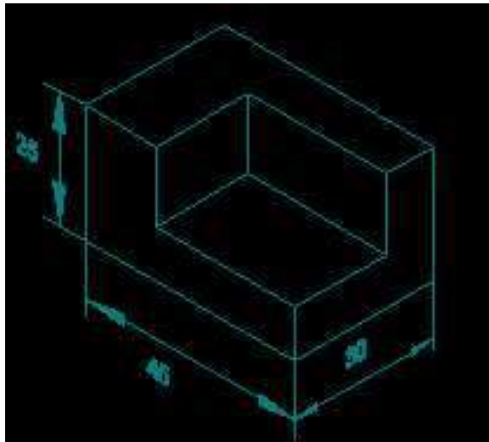
C.

D.

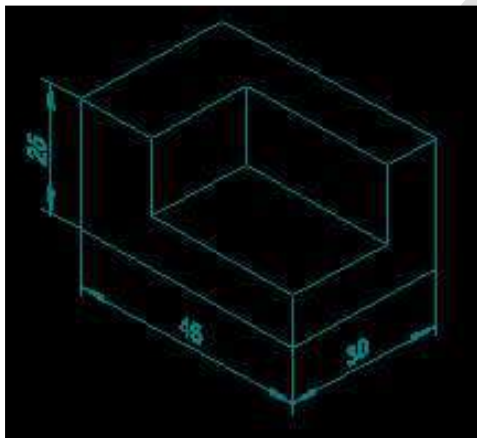


Answer-C

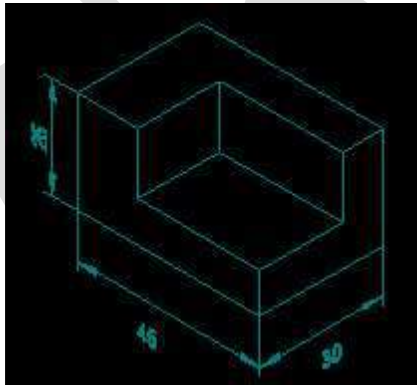
4. Which drawing dimension is correct as per standard drawing practice?
 ड्राइंग अभ्यास के अनुसार कौन सा ड्राइंग आयाम सही है?



A.

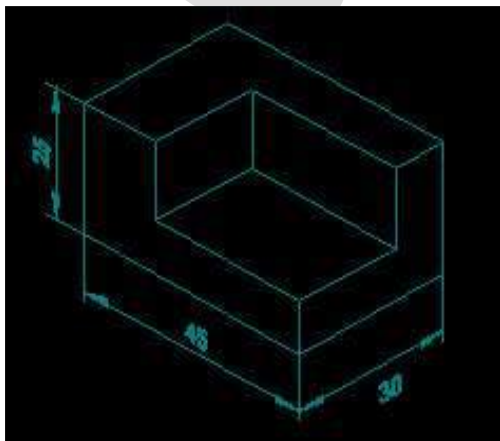


B.




C.

D.



Answer-B

5. Identify the name of set square?
 सेट स्क्वायर का नाम खोजें?



- A. 15° set square
 15° सेट स्क्वायर
 45° सेट स्क्वायर
- B. 45° set square
 45° सेट स्क्वायर
- C. 60° set square
 60° सेट स्क्वायर
 30° सेट स्क्वायर
- D. 30° set square
 30° सेट स्क्वायर

Answer-B

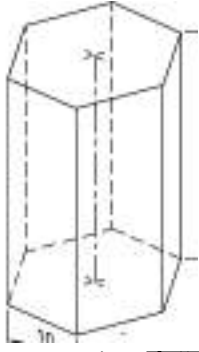
6. Identify the name of tool?
 उपकरण का नाम पहचानें?



- A. Combination spanner संयोजन स्पैनर
- B. Open end spanner ओपन एंड स्पैनर
- C. Ring spanner गोल पाना
- D. Adjustable spanner समायोज्य औजार

Answer-B

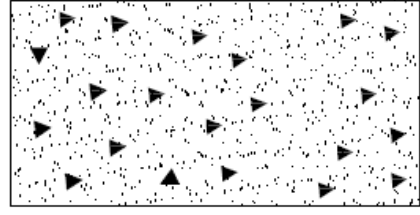
7. Identify the name of prism?
 चित्र में दिखाए गए प्रिज्म का नाम क्या है?



- A. Square prism स्क्वायर प्रिज्म
- B. Pentagonal prism पंचकोणीय प्रिज्म
- C. Hexagonal prism हेक्सागोनल प्रिज्म
- D. Triangular prism त्रिकोणीय प्रिज्म

Answer- C

सामग्री के पारंपरिक प्रतीक को पहचानें?

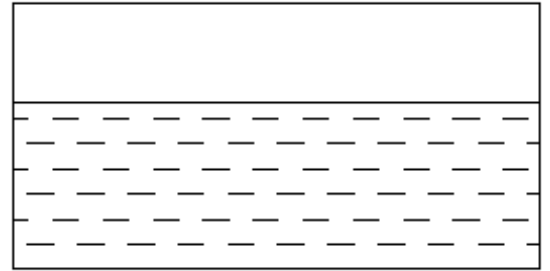


- A. Glass कांच
 - B. Concrete ठोस
 - C. Steel इस्पात
 - D. Wood लकड़ी
- Answer-B

- 10. What is the trimmed size of A4 sheet?
A4 शीट का ट्रिम किया हुआ आकार क्या है?
- B. 594 X 841
- B. 148 X 210
- D. 841 X 1189
- D. 210 X 297

Answer-D

- 11. Identify the conventional symbol of material?
चित्र में दिखाए गए सामग्री के पारंपरिक प्रतीक का पता लगाएं?




- A. Glass कांच
 - B. Water पानी
 - C. Asbestos ऐस्बेटस
 - D. Concrete ठोस
- Answer-B

- 12. Identify the conventional symbol of material?
सामग्री के पारंपरिक प्रतीक को पहचानें?



- A. Glass कांच
 - B. Concrete ठोस
 - C. Wood लकड़ी
 - D. Steel इस्पात
- Answer-A

- 8. Which single stroke inclined letter 'A' is correct as per IS standard?
IS मानक के अनुसार कौन सा सिंगल स्ट्रोक वर्टिकल लेटर 'A' सही है?



B.

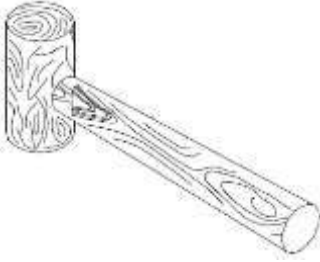


Answer-D

- 9. Identify the conventional symbol of material?

- 13. Identify the name of tool?

उपकरण कानाम पहचानें?

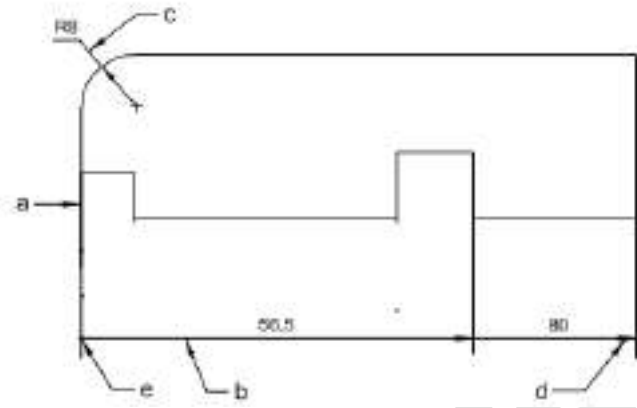


- A. Straight peen hammer स्ट्रेट पीन हैमर
- B. Cross peen hammer क्रॉस पीन हैमर
- C. Ball peen hammer बॉल पीन हैमर
- D. Mallet लकड़ी का हथौड़ा

Answer-D

14. Identify the line 'b'?

लाइन 'b' को पहचानें?

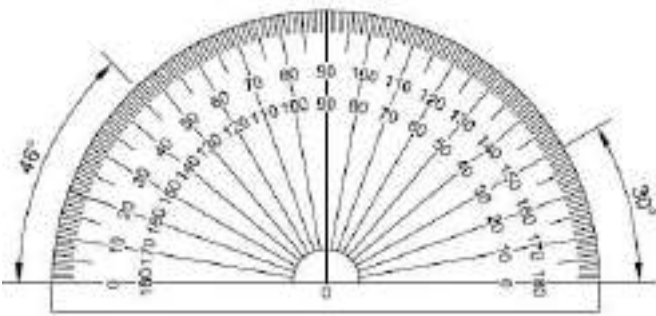


- A. Leader line लीडर लाइन
- B. Extension line विस्तारित लाइन
- C. Dimension line आयाम रेखा
- D. Termination of dimension line आयाम रेखा की समाप्ति

Answer-C

15. Identify the name of instrument?

चित्र में दिखाए गए उपकरणों के नाम की पहचान करें?

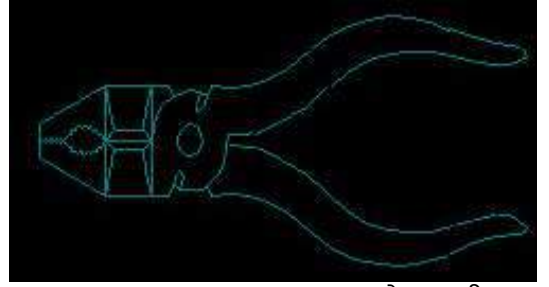


- A. Set square गुनिया
- B. French curve फ्रेंच कर्व
- C. 'T' square स्कायर
- D. Protractor चांदा

Answer-D

16. Identify the name of tool?

उपकरण कानाम पहचानें?

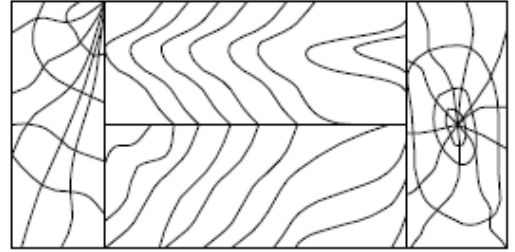


- A. Double cutting shear डबल काटने कतरनी
- B. Aviation shear उड्डयन कतरनी
- C. Cutting plier काटने वाला सरौता
- D. Hawk-billed shear हॉक-बिल शीयर

Answer-C

17. Identify the conventional symbol of material?

चित्र में दिखाए गए सामग्री के पारंपरिक प्रतीक का पता लगाएं?



- A. Lead लेड
- B. Wood लकड़ी
- C. Paper कागज़
- D. Glass कांच

Answer-B

18. Compass used to draw for ___

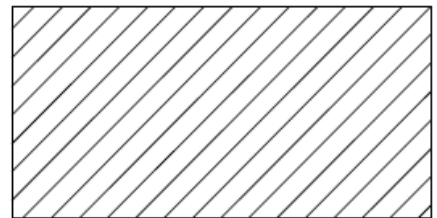
कम्पास का उपयोग ___ को ड्रा करने के लिए किया जाता है.

- A. circle वृत्त
- B. triangle त्रिकोण
- C. rectangle आयत
- D. square वर्ग

Answer-A

19. Identify the conventional symbol of material?

सामग्री के पारंपरिक प्रतीक को पहचानें?

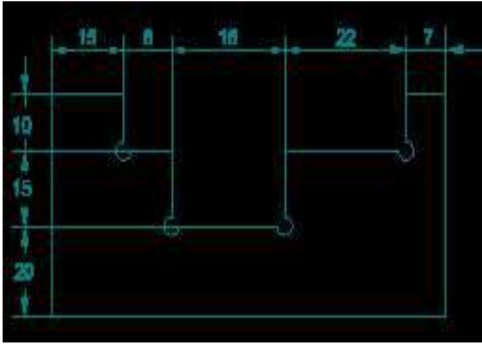


- A. Porcelain चीनी मिट्टी
- B. Lead लेड
- C. Steel इस्पात
- D. Glass कांच

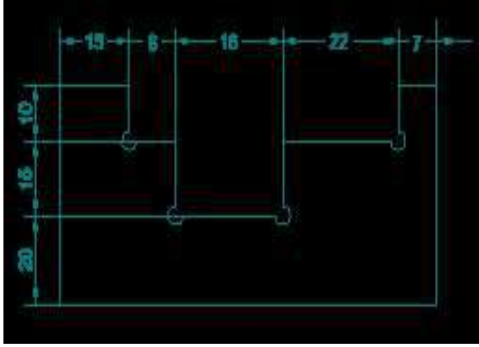
Answer-C

20. Identify the correct aligned system dimension?

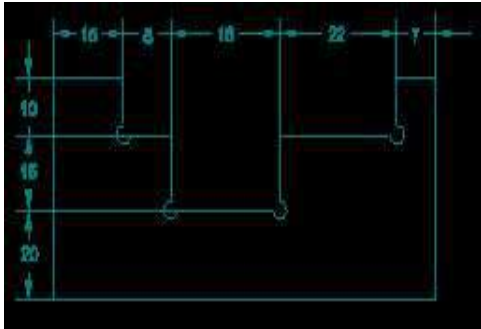
सही संरेखित सिस्टम आयाम की पहचान करें?



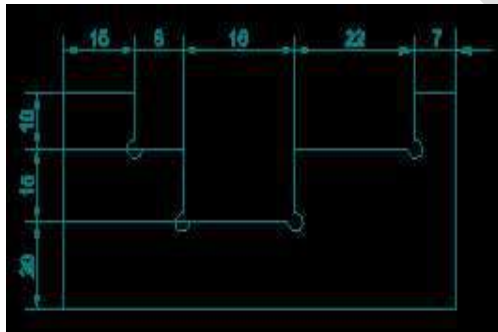
A.



B.



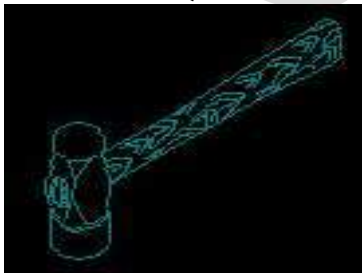
C.



D.

Answer-D

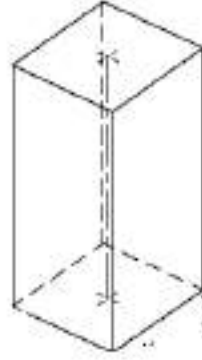
21. Identify the name of tool?
उपकरण का नाम पहचानें?



- A. Sledge hammer स्लेज हैमर
- B. Straight pein hammer सीधे पीन हथौड़ा
- C. Cross pein hammer क्रॉस पीन हैमर
- D. Ball pein hammer बॉल पीन हैमर

Answer-D

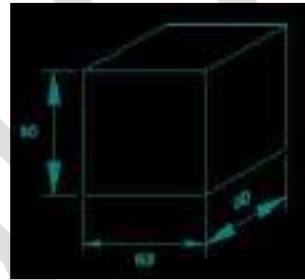
22. Identify the name of prism?
चित्र में दिखाए गए प्रिज्म का नाम क्या है?



- A. Triangular prism त्रिकोणीय प्रिज्म
 - B. Hexagonal prism हेक्सागोनल प्रिज्म
 - C. Square prism स्क्वायर प्रिज्म
 - D. Rectangle prism आयत प्रिज्म
- Answer-C

23. Which drawing dimension is correct as per IS standard?

IS मानक के अनुसार कौन सा ड्राइंग आयाम सही है?



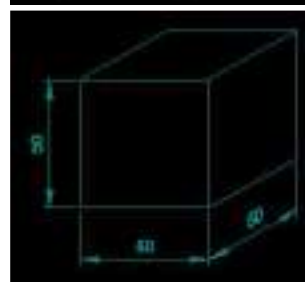
A.

B.




C.

D.



Answer-C

24. Identify the name of tool?
उपकरण का नाम पहचानें?



- A. Feeler gauge फ़ीलर गेज
 - B. Try square बढई की गुनिया
 - C. Steel rule स्टील रूल
 - D. Surface gauge सतह नापने का यंत्र
- Answer-B

अच्छी तैयारी के लिए ग्लोबल आईटीआई की वीडियो क्लासेज जरूर देखें

1- Global iTi YouTube Channel Link-

<https://www.youtube.com/globaliti>

2- Global iTi Mobile App Link –

<https://play.google.com/store/apps/details?id=co.davos.srgz>

3- Global iTi Telegram Link –

<https://t.me/globaliti>

4- Global iTi website Link –

<https://globaliti.org/>