

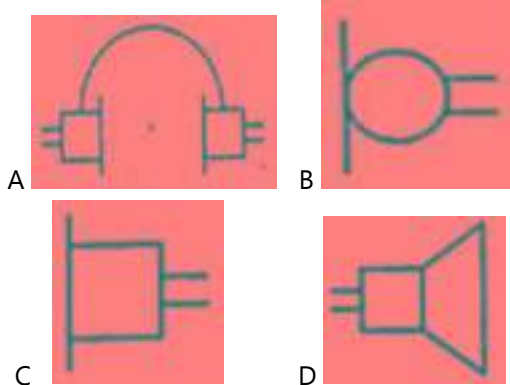
Engineering Drawing

ELECTRICIAN 2nd Year

SUPER-6 Series

Class-01

1. Identify the symbol used for microphone (general) in electrical and electronic circuits. इलेक्ट्रिकल और इलेक्ट्रॉनिक सर्किट में माइक्रोफोन (सामान्य) के लिए उपयोग किए जाने वाले प्रतीक को पहचान करें।




Answer- B

2. Which device is used to start and stop a motor? मोटर को चालू और बंद करने के लिए किस उपकरण का उपयोग किया जाता है?

- A. Slip ring स्लिप रिंग B. Rotor रोटार
C. Stator स्टेटर D. Starter स्टार्टर

Answer- D

3. Which is the single pole MCB? सिंगल पोल MCB कौन सा है?



A

B



C



D

Answer- C

4. Which part regulates the heat in automatic iron? कौन सा भाग स्वचालित लोहे में गर्मी को नियंत्रित करता है?

- A. Asbestos sheet एस्बेस्टस शीट
B. Pressure plate प्रेशर प्लेट
C. Thermostatic switch थर्मोस्टाटिक स्विच
D. Heating element हीटिंग एलिमेंट

Answer- C

5. What is the name of the gate? गेट का नाम क्या है?



- A. NOT Gate
B. Ex-NOR Gate
C. AND Gate
D. OR Gate

Answer- C

6. Which is ball peen hammer? बॉल पीन हैमर कौन सा है?



A



B



C



D

Answer- D

Class-02

7. Identify the batten holder in the following picture.

निम्नलिखित चित्र में बैटन होल्डर को पहचानें



A



B



C



D

Answer- A

8. Identify the symbol of battery.

बैटरी के प्रतीक को पहचानें



A



B



C



D


Answer- A

9. Which is photo diode?

फोटो डायोड कौन सा है?



A



B



C



D

Answer-C

10. Identify the wave form. वेव फार्म को पहचानें



A. Saw-tooth wave साँ-टूथ वेव

B. Square wave स्केर वेव

C. Sine wave साइन वेव

D. Triangle wave त्रिकोण वेव

Answer-C

11. Which is nose pliers?

नोज प्लेयर कौन सा है?



A



B



C



D

Answer-D

12. Which is protective device?

सुरक्षात्मक उपकरण कौन सा है?

- A. Fuse फ्यूज़
- B. Resistor रेसिस्टर
- C. Capacitor कैपसिटर
- D. Magnet मैग्नेट

Answer-A


Class-03

13. Voltage less than 250 volt is called _____.
250 वोल्ट से कम वोल्टता ____ कहलाती है

- A. MT (Medium Tension)
MT(मध्यम टेंशन)
- B. LT (Low Tension)
LT (लो टेंशन)
- C. EHT (Extra High Tension)
EHT (अतिरिक्त उच्च टेंशन)
- D. HT (High Tension)
HT (उच्च टेंशन)

Answer-B

14. Which is a symbol of DC motor?
कौन सा DC मोटर का प्रतीक है?



Answer-A

15. What is the material of line insulator?
लाइन इन्सुलेटर की सामग्री क्या है?

- A. Aluminium अल्युमीनियम
- B. Porcelain clay प्रोसिलिन क्ले
- C. Copper तौबा
- D. Rubber रबड़

Answer-B

16. Identify the switch in the given picture.
दिए गए चित्र में स्विच को पहचानें

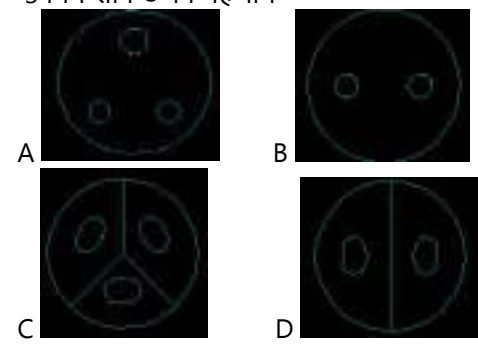


- A. Toggle Switch टॉगल स्विच
- B. Tumbler Switch टम्बलर स्विच
- C. Flux type switch फ्लक्स प्रकार स्विच
- D. Intermediate Switch इंटरमीडिएट स्विच

Answer-B

17. Identify the 3-pin socket.

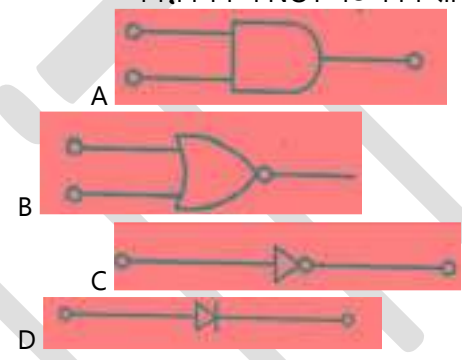
3 पिन सॉकेट को पहचानें



Answer-A

18. Which is the NOT gate in the following picture?

निम्न चित्र में NOT गेट कौन सा है?



Answer-C

अच्छी तैयारी के लिए ग्लोबल आईटीआई की वीडियो क्लासेज जरूर देखें

- 1- Global iTi YouTube Channel Link-
<https://www.youtube.com/globaliti>
- 2- Global iTi Mobile App Link –
<https://play.google.com/store/apps/details?id=co.davos.srgzl>
- 3- Global iTi Telegram Link –
<https://t.me/globaliti>
- 4- Global iTi webiste Link –
<https://globaliti.org/>